


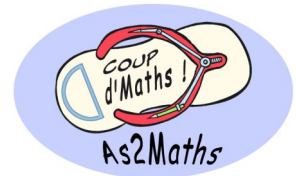
Rallye Maths de Nouvelle-Calédonie

FINALE 2012

Nouvelle-Calédonie



ATELIER 2



Calcul mental

Cet atelier nécessite la participation de TOUS.

Répartissez-vous en 3 groupes :

**Chaque groupe devra répondre à 10 questions
de calcul mental.**

**La classe qui aura obtenu le meilleur résultat
gagnera 54 points et les suivantes auront à
chaque fois 3 points de moins.**

ATTENTION :

**Il est strictement interdit de souffler
les réponses : aucun bruit ne sera toléré ;
L'ardoise devra être levée au signal.**


***En cas de non respect des règles,
la classe perd 10 points.***

Rallye Maths de Nouvelle-Calédonie

FINALE 2012



ATELIER 2



Calcul mental

Auteuil	Sainte Marie	Normandie	Champagne	Tuband	Ile	Corrigé
---------	--------------	-----------	-----------	--------	-----	---------

Question 1 : Ecrire en chiffre...

G1	Six mille cinq							6 005
G2	Sept mille vingt							7 020
G3	Huit mille quinze							8 015

Question 2 : Donner le résultat de...

G1	8 fois 8							64
G2	9 fois 6							54
G3	8 fois 6							48

Question 3 : Quel(le) est...

G1	le tiers de 90							30
G2	la moitié de 52							26
G3	le quart de 100							25

Question 4 : Donner le résultat de...

G1	18 x 100							1 800
G2	3,74 x 10							37,4
G3	0,4 x 1000							400

Question 5 : Donner le résultat de...

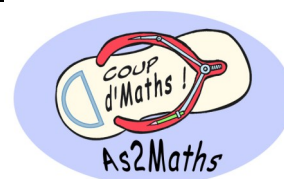
G1	3,07 + 21,4							24,47
G2	8,78 + 11							19,78
G3	13 + 2,7							15,7

Rallye Maths de Nouvelle-Calédonie

FINALE 2012



ATELIER 2



Calcul mental

Auteuil	Sainte Marie	Normandie	Champagne	Tuband	Ile	Corrigé
---------	--------------	-----------	-----------	--------	-----	---------

Question 6 : Donner l'écriture décimale de...

G1	Trente-trois millièmes						0,033
G2	Sept centièmes						0,07
G3	Treize dizaines						130

Question 7 : Donner le résultat de...

G1	$56 \div 7$						8
G2	$42 \div 6$						7
G3	$63 \div 9$						7

Question 8 : Quel est...

G1	le double de 75						150
G2	le triple de 15						45
G3	le triple de 25						75

Question 9 : Quel est le produit de...


G1	9 par 6						54
G2	5 par 8						40
G3	7 par 7						49

Question 10 : Donner le résultat de...

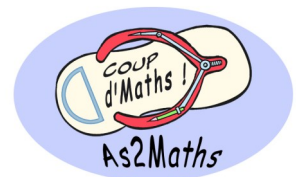
G1	$56 \times 0,1$						5,6
G2	$30 \times 0,01$						0,3
G3	$5,7 \times 0,1$						0,57

Rallye Maths de Nouvelle-Calédonie

FINALE 2012



ATELIER 2



Calcul mental

Canala	St Joseph de Cluny	Louise Michel	Koutio	Baudoux	Boulari	Corrigé
--------	--------------------	---------------	--------	---------	---------	---------

Question 1 : Ecrire en chiffre...

G1	Six mille cinq							6 005
G2	Sept mille vingt							7 020
G3	Huit mille quinze							8 015

Question 2 : Donner le résultat de...

G1	8 fois 8							64
G2	9 fois 6							54
G3	8 fois 6							48

Question 3 : Quel(le) est...

G1	le tiers de 90							30
G2	la moitié de 52							26
G3	le quart de 100							25

Question 4 : Donner le résultat de...

G1	18 x 100							1 800
G2	3,74 x 10							37,4
G3	0,4 x 1000							400

Question 5 : Donner le résultat de...

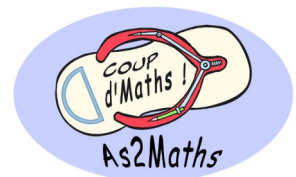
G1	3,07 + 21,4							24,47
G2	8,78 + 11							19,78
G3	13 + 2,7							15,7

Rallye Maths de Nouvelle-Calédonie

FINALE 2012



ATELIER 2



Calcul mental

James Cook	Kaméré	Mariotti	St Dominique Savio	Katirama	La Foa	Corrigé
------------	--------	----------	--------------------	----------	--------	---------

Question 1 : Ecrire en chiffre...

G1	Six mille cinq							6 005
G2	Sept mille vingt							7 020
G3	Huit mille quinze							8 015

Question 2 : Donner le résultat de...

G1	8 fois 8							64
G2	9 fois 6							54
G3	8 fois 6							48

Question 3 : Quel(le) est...

G1	le tiers de 90							30
G2	la moitié de 52							26
G3	le quart de 100							25

Question 4 : Donner le résultat de...

G1	18 x 100							1 800
G2	3,74 x 10							37,4
G3	0,4 x 1000							400

Question 5 : Donner le résultat de...


G1	3,07 + 21,4							24,47
G2	8,78 + 11							19,78
G3	13 + 2,7							15,7

Rallye Maths de Nouvelle-Calédonie

FINALE 2012



ATELIER 2



Calcul mental

James Cook	Kaméré	Mariotti	St Dominique Savio	Katirama	La Foa	Corrigé
------------	--------	----------	--------------------	----------	--------	---------

Question 6 : Donner l'écriture décimale de...

G1	Trente-trois millièmes						0,033
G2	Sept centièmes						0,07
G3	Treize dizaines						130

Question 7 : Donner le résultat de...

G1	$56 \div 7$						8
G2	$42 \div 6$						7
G3	$63 \div 9$						7

Question 8 : Quel est...

G1	le double de 75						150
G2	le triple de 15						45
G3	le triple de 25						75

Question 9 : Quel est le produit de...

G1	9 par 6						54
G2	5 par 8						40
G3	7 par 7						49

Question 10 : Donner le résultat de...

G1	$56 \times 0,1$						5,6
G2	$30 \times 0,01$						0,3
G3	$5,7 \times 0,1$						0,57